

SOLDADO PM DE 2ª CLASSE (PÓS-EDITAL)

Tipo – GRAN



SUA PROVA

As questões objetivas têm cinco alternativas de resposta (A, B, C, D, E) e somente uma delas está correta;

Além deste caderno de questões, contendo setenta questões objetivas, você receberá do Fiscal de Sala:

o cartão-resposta das questões objetivas.



INFORMAÇÕES GERAIS

Verifique se seu caderno está completo, sem repetição de questões ou falhas. Caso contrário, notifique imediatamente o Fiscal da Sala, para que sejam tomadas as devidas providências;

Confira seus dados pessoais, especialmente nome, número de inscrição e documento de identidade e atentamente as instruções para preencher o cartão-resposta;

Use somente caneta esferográfica, fabricada em material transparente, com tinta preta ou azul;

Assine seu nome apenas no(s) espaço(s) reservado(s);

Confira sua cor e tipo do caderno de questões. Caso tenha recebido caderno de cor ou tipo **diferente** do impresso em seu cartão-resposta, o fiscal deve ser **obrigatoriamente** informado para o devido registro na Ata da Sala;

Reserve tempo suficiente para o preenchimento do seu material. O preenchimento é de sua responsabilidade e não será permitida a troca do cartão-resposta ou folha de texto definitivo em caso de erro;

Para fins de avaliação, serão levadas em consideração apenas as marcações realizadas no cartão-resposta e na folha de texto definitivo;

Os candidatos serão submetidos ao sistema de detecção de metais quando do ingresso e da saída de sanitários durante a realização das provas.

Boa sorte!



TEMPO

Você dispõe de **4h** para a realização da prova, já incluído o tempo para a marcação do cartão-resposta e preenchimento da folha de texto definitivo;

3 horas após o início da prova é possível retirar-se da sala, sem levar o caderno de questões;

Faltando **30 minutos** para o final da prova é possível retirar-se da sala levando o caderno de questões.



NÃO SERÁ PERMITIDO

Qualquer tipo de comunicação entre os candidatos durante a aplicação da prova;

Levantar da cadeira sem autorização do Fiscal de Sala;

Usar o sanitário ao término da prova, após deixar a sala.

Baseado no formato de prova aplicado pela banca FGV



FOLHA DE ROSTO ORIENTATIVA PARA PROVA OBJETIVA

LEIA AS ORIENTAÇÕES COM CALMA E ATENÇÃO!

INSTRUÇÕES GERAIS

- Atenção ao tempo de duração da prova, que já inclui o preenchimento da folha de respostas.
- Cada uma das questões da prova objetiva está vinculada ao comando que imediatamente a antecede e contém orientação necessária para resposta. Para cada questão, existe apenas UMA resposta válida e de acordo com o gabarito.
- Faltando uma hora para o término do simulado, você receberá um *e-mail* para preencher o cartão-resposta, a fim de avaliar sua posição no *ranking*. Basta clicar no botão vermelho de PREENCHER GABARITO, que estará no *e-mail*, ou acessar a página de *download* da prova. Você deve fazer o cadastro em nossa plataforma para participar do *ranking*. Não se preocupe: o cadastro é grátis e muito simples de ser realizado.
 - **Se a sua prova for estilo Certo ou Errado (CESPE/CEBRASPE):**
marque o campo designado com o código C, caso julgue o item CERTO; ou o campo designado com o código E, caso julgue o item ERRADO. Se optar por não responder a uma determinada questão, marque o campo “EM BRANCO”. Lembrando que, neste estilo de banca, uma resposta errada anula uma resposta certa.
Obs.: Se não houver sinalização quanto à prova ser estilo Cespe/Cebraspe, apesar de ser no estilo CERTO e ERRADO, você não terá questões anuladas no cartão-resposta em caso de respostas erradas.
 - **Se a sua prova for estilo Múltipla Escolha:**
marque o campo designado com a letra da alternativa escolhida (A, B, C, D ou E). É preciso responder a todas as questões, pois o sistema não permite o envio do cartão com respostas em branco.
- Uma hora após o encerramento do prazo para preencher o cartão-resposta, você receberá um *e-mail* com o gabarito para conferir seus acertos e erros. Caso você seja aluno da Assinatura Ilimitada, você receberá, com o gabarito, a prova completa comentada – uma vantagem exclusiva para assinantes, com acesso apenas pelo *e-mail* e pelo ambiente do aluno.
- Não serão realizadas correções individuais das provas discursivas.

Em caso de solicitação de recurso para alguma questão, envie para o *e-mail*:

treinodificil_jogofacil@grancursosonline.com.br.

Nossa ouvidoria terá até dois dias úteis para responder à solicitação.

Desejamos uma excelente prova!



FICHA TÉCNICA DO MATERIAL

grancursosonline.com.br

CÓDIGO:

2404223556M

TIPO DE MATERIAL:

Simulado Preparatório

NUMERAÇÃO:

1º Simulado

NOME DO ÓRGÃO:

Polícia Militar do Estado de São Paulo
PM SP

CARGO:

Soldado PM de 2ª Classe

MODELO/BANCA:

FGV

EDITAL:

Pós-Edital

DATA DE APLICAÇÃO:

4/2024

ÚLTIMA ATUALIZAÇÃO:

4/2024

Este material está sujeito a atualizações. O Gran não se responsabiliza por custos de impressão, que deve ser realizada sob responsabilidade exclusiva do aluno.

PM SP – 1º SIMULADO – SOLDADO PM DE 2ª CLASSE (PÓS-EDITAL)

Língua Portuguesa

Lucas Lemos

1

Assinale a opção que apresenta a frase cuja forma verbal está correta.

- (A) Estados Unidos **detem** grande poder.
- (B) **Requiseram** o emprego de regras mais rígidas.
- (C) **Advinhamos** os números da loteria.
- (D) O retirante **proviu** do interior do Nordeste.
- (E) **Proveem** a casa do necessário.

2

Assinale a alternativa em que a frase está com a concordância verbal inadequada.

- (A) Há de haver motivos para esta desistência.
- (B) Deve fazer cinco anos que me formei.
- (C) Dez anos está fazendo que estudamos juntos.
- (D) Podem ter passado dois anos que nos vimos.
- (E) Mais de um estudante estiveram no evento.

3

Observe a seguinte frase:

“Se as pessoas se mantessem calmas, os policiais não teriam intervindo para lhes impedir na manifestação”.

Nessa frase, o(s) erro(s) existente(s) é(são):

- (A) apenas na conjugação do verbo “intervir”.
- (B) apenas na conjugação do verbo “manter”.
- (C) na conjugação do verbo “manter” e na regência de “impedir”.
- (D) na conjugação do verbo “manter” e na colocação do pronome “lhes”.
- (E) na conjugação dos verbos “manter” e “intervir” e na regência do verbo “impedir”.

4

Os adjetivos, em língua portuguesa, podem indicar estados, características, qualidades e relações. Assinale a alternativa em que o adjetivo destacado indica uma relação.

- (A) Quartel **antigo**.
- (B) Policial **corrupto**.
- (C) Policiais **paulistas**.
- (D) Delegacia **nova**.
- (E) Livro **rasurado**.

5

Assinale a frase em que o adjetivo destacado indica estado.

- (A) O homem **velho** viajou em paz.
- (B) As **belas** vozes foram ouvidas por longas distâncias.
- (C) As lutas **sociais** sofrem um assédio agressivo da globalização.
- (D) O policial **competente** agiu favoravelmente à Lei.
- (E) O desejo **sombrio** das pessoas me assusta.

6

Observe o período abaixo:

Na literatura carioca, era registrado o termo samba.

Há um exemplo de voz passiva com o verbo **ser**. Assinale a alternativa que transforma essa frase corretamente para a voz ativa.

- (A) Na literatura carioca, registravam-se o termo samba.
- (B) Na literatura carioca, registrou-se o termo samba.
- (C) Na literatura carioca, registrava-se o termo samba.
- (D) Na literatura carioca, o termo samba era registrado.
- (E) Na literatura carioca, registravam o termo samba.

7

Indique a alternativa em que o vocábulo SE exerce a função de pronome reflexivo.

- (A) Estabelecem-se normas rígidas.
- (B) O acusado denunciou-se durante o inquérito.
- (C) Em fazendas, dorme-se ao ar livre.
- (D) Atribui-se aos parlamentares um comportamento duvidoso.
- (E) O parlamentar se esqueceu do compromisso sociopolítico.

8

Observe a frase a seguir:

No Gran, há cursos semipresenciais.

Mantêm-se o sentido e a correção gramatical do texto caso a forma verbal “há” seja substituída por

- (A) tem.
- (B) existem.
- (C) hão.
- (D) têm.
- (E) existe.

9

Leia a frase a seguir:

“Sua boca é um cadeado/ E meu corpo é uma fogueira”

(Chico Buarque)

Identifica-se a seguinte figura de linguagem no texto de Chico Buarque:

- (A) eufemismo.
- (B) metáfora.
- (C) metonímia.
- (D) sinestesia.
- (E) catacrese.

10

Analise a oração:

“O atual governador de São Paulo, Tarcísio de Freitas, participou do evento.”

Assinale a alternativa que indica a função sintática da expressão “Tarcísio de Freitas”.

- (A) Adjunto adverbial.
- (B) Sujeito.
- (C) Objeto direto.
- (D) Vocativo.
- (E) Aposto.

11

Observe o período a seguir:

“Se estudasse com afinco, hoje já estaria aprovado.”

A forma verbal “estaria”

- (A) está conjugada no futuro do presente.
- (B) transporta a uma época passada e descreve o que seria ação futura.
- (C) indica um passado contínuo.
- (D) traduz ações posteriores ao tempo da oração anterior.
- (E) exprime dúvida sobre fatos passados.

12

Analise o período para responder à questão.

“O parlamentar conseguiu grandes realizações, **conquanto fosse gênio.**”

A oração grifada traz uma ideia de:

- (A) proporção.
- (B) consequência.
- (C) causa.
- (D) modo.
- (E) concessão.

13

Assinale a alternativa em que o acento grave foi empregado corretamente.

- (A) A testemunha obedeceu à ordem do juiz.
- (B) O juiz explicou à situação ao acusado.
- (C) O advogado informou à todos os clientes a sua desistência.
- (D) A ideia do promotor estava relacionada à este processo.
- (E) O réu estava disposto à colaborar com o advogado.

14

Assinale a frase abaixo que mostra um uso correto quanto à colocação de um pronome pessoal.

- (A) Lhe perguntou como agir.
- (B) Isso refere-se a mim.
- (C) Ajudarei-te se for honesto.
- (D) Tratar-me-ei a mim mesmo como um objeto.
- (E) Busquei novas oportunidades que forçaram-me a estudar.

15

As palavras “Brasília, estatística e também” são acentuadas graficamente, respectivamente, por serem

- (A) paroxítona, proparoxítona e oxítona.
- (B) todas proparoxítonas.
- (C) oxítona, paroxítona e oxítona.
- (D) paroxítona terminada em ditongo crescente, proparoxítona e oxítona.
- (E) paroxítona terminada em ditongo decrescente, proparoxítona e oxítona terminada em “em”.

16

Observe o período a seguir:

“A polícia militar **tem realizado** contenções nas cidades”.

A forma verbal destacada indica o valor de uma ação que

- (A) ocorre, ao mesmo tempo, no presente e no futuro.
- (B) acontece anteriormente a outra ação passada.
- (C) começou no passado e continua no presente.
- (D) foi concluída no passado.
- (E) acontece com frequência no passado.

17

Considere a explicação a seguir:

“Conexão entre estruturas frasais, estabelecendo uma argumentação lógica entre as ideias.”

Esse conceito faz alusão a:

- (A) coesão e coerência.
- (B) variação linguística.
- (C) interpretação textual.
- (D) ortografia.
- (E) norma culta da língua portuguesa.

18

Assinale a opção que mostra um emprego inadequado da expressão “graças a”.

- (A) Graças aos estudos, o aluno foi aprovado no concurso.
- (B) O paciente morreu graças ao erro médico.
- (C) Os policiais atiravam bem graças ao treinamento.
- (D) Graças ao trabalho bem-feito, os clientes ficaram satisfeitos.
- (E) Os romeiros sempre dão graças a Deus pelo dom da vida.

19

Assinale a alternativa em que a palavra destacada foi substituída por um antônimo adequado.

- (A) **Fraco** / magro
- (B) **Educado** / simpático
- (C) **Estarrecido** / assustado
- (D) **Quente** / frio
- (E) **Paciente** / justo

20

Assinale a alternativa que mostra palavras que não possuem o mesmo sentido.

- (A) Felicidade / alegria
- (B) Tristeza / sofrimento
- (C) Lentidão / morosidade
- (D) Recrudescimento / aumento
- (E) Comprido / largo

Matemática**Diego Ribeiro****21**

A média das idades de seis irmãos é 28 anos. Sabe-se que os três irmãos mais velhos são trigêmeos e têm 32 anos de idade, e que os outros três irmãos têm idades consecutivas. Então, a idade do irmão mais novo é:

- (A) 23 anos.
- (B) 22 anos.
- (C) 21 anos.
- (D) 25 anos.
- (E) 30 anos.

22

Em uma gráfica, há quatro impressoras que, trabalhando juntas e sem interrupções, imprimem 100.000 folhas em um minuto. Se uma dessas impressoras estiver desligada, o número de folhas que as demais imprimem juntas, em um quarto de hora, é igual a

- (A) 1.000.000.
- (B) 1.500.000.
- (C) 550.000.
- (D) 1.125.000.
- (E) 750.000.

23

Determinado produto químico, para ser usado, precisa ser diluído em água numa determinada proporção. Ao adicionar 200 ml do produto com a quantidade ideal de água, tem-se uma mistura de 1,5 l. Lembrando que 1 litro = 1000 ml, podemos afirmar que a proporção de diluição ideal desse produto é de:

- (A) 5,5 ml do produto para cada ml de água.
- (B) 2,5 ml de água para cada ml do produto.
- (C) 5 ml de água para cada ml do produto.
- (D) 6,5 ml do produto para cada ml de água.
- (E) 3,5 ml de água para cada ml do produto.

24

Em um batalhão, os militares foram divididos em 3 grupos. O grupo de oficiais, com 32 militares, o grupo de sargentos, com 40 militares, e o grupo de soldados, com 75 militares. Para uma missão, todos esses militares serão chamados pelo nome, mas sem uma ordem definida. O menor número de militares que devem ser chamados para garantir que já foram chamados 4 oficiais é

- (A) 4.
- (B) 127.
- (C) 99.
- (D) 119.
- (E) 98.

25

Em um grupo de 300 soldados, alguns treinam natação e os demais nunca treinaram. Após um incentivo à prática deste esporte, 50% dos soldados desse grupo que afirmaram nunca treinar natação passaram a treinar. Após o incentivo, o número de soldados que treinavam natação correspondeu a 60% do total de soldados nesse grupo. O percentual de soldados que já praticavam natação antes do incentivo era de:

- (A) 20%.
- (B) 35%.
- (C) 40%.
- (D) 60%.
- (E) 47%.

26

Sabendo que um relógio atrasa 1 minuto a cada 4 minutos e que, neste exato momento, indica 14:15, decorridos 40 minutos, o mesmo relógio indicará:

- (A) 13:30.
- (B) 14:30.
- (C) 14:45.
- (D) 14:55.
- (E) 13:55.

27

O soldado Charlie deverá preservar um local de um crime e será necessário isolar uma região em formato circular, cuja maior distância entre dois pontos dessa região seja de 40 metros. Sabendo que Charlie possui apenas fitas com medidas de π m, a quantidade mínima de fitas para preservar esse local será igual a:

- (A) 12.
- (B) 40.
- (C) 20.
- (D) 18
- (E) 60.

28

Em certa região, antes da formação de novos soldados, a razão entre o número de soldados e o número de oficiais era igual a 4. Após o concurso, com a formação de 250 novos soldados, essa razão passou a ser 6. Se não houve entrada nem saída de oficiais, então é correto afirmar que, antes da formação, o número de oficiais naquela região era igual a

- (A) 125.
- (B) 135.
- (C) 140.
- (D) 160.
- (E) 150.

29

Em determinado ano bissexto, o dia 25 de abril caiu em uma terça. Nesse referido ano, o dia 10 de janeiro caiu em

- (A) uma quarta-feira.
- (B) uma sexta-feira.
- (C) uma quinta-feira.
- (D) uma terça-feira.
- (E) uma segunda-feira.

30

Em um mapa cuja escala é 1:500.000.000, medimos, com uma régua, a distância entre as cidades A e B e encontramos 0,5 cm. Sabendo que o deslocamento entre essas cidades seria feito por meio de avião com velocidade constante de 500 km/h, decolando de A às 10h, o horário de pouso na cidade B (sem paradas) seria às:

- (A) 14h.
- (B) 14h e 30min.
- (C) 15h.
- (D) 15h e 30min.
- (E) 16h.

31

Um processo seletivo é composto por quatro provas, avaliadas com notas de zero a dez pontos, sendo que a nota final é calculada pela média das notas dessas provas. Um candidato tirou 7,5 pontos na primeira prova, 9,5 na segunda e 7 na terceira, ficando com média 8. Isso significa que, comparada à média das três primeiras provas, a nota da quarta prova foi:

- (A) igual.
- (B) 2,0 pontos maior.
- (C) 1,0 ponto menor.
- (D) 1,5 ponto menor.
- (E) 1,2 ponto maior.

32

Em um documento de identificação de certa propriedade rural, consta que sua área é de 8,2 dam². Transformando-se essa área para cm², seu valor é de

- (A) 820.
- (B) 8.200.
- (C) 8,2.
- (D) 82.000.
- (E) 820.000.

33

Pedro é concursado e, há 4 dias, mandou mensagem para a sua irmã informando que faltavam 20 dias para a sua prova. Se ontem foi quinta, sabendo que o resultado da prova é divulgado 31 dias após a prova, o resultado foi divulgado em um(a)

- (A) terça-feira.
- (B) quarta-feira.
- (C) sexta-feira.
- (D) sábado.
- (E) domingo.

34

O soldado Alfa faz rondas no Batalhão a cada 2 horas, e o soldado Bravo, a cada 3 horas. Sabendo que os dois soldados pertencem à mesma equipe e, portanto, iniciam e finalizam o expediente juntos, e que fizeram rondas juntos, ontem, às 23h, o próximo horário em que ambos estiveram em ronda foi:

- (A) ontem – 23h30min.
- (B) hoje – 4h.
- (C) hoje – 8h.
- (D) hoje – 6h.
- (E) hoje – 5h.

35

Um reservatório de água tem medidas internas de 5 m de comprimento, 4 m de largura e 3 m de altura. Em determinado dia, essa caixa continha 1/5 de sua capacidade de água. Uma torneira permaneceu aberta até que 6.000 l fossem retirados da caixa. Após esse ocorrido, o volume de água que restou na caixa corresponde, da sua capacidade total, a:

- (A) 30%.
- (B) 20%.
- (C) 15%.
- (D) 40%.
- (E) 10%.

Conhecimentos Gerais – História**Admilson Costa****36**

A Primeira Guerra Mundial iniciou o primeiro grande conflito internacional do século vinte. O assassinato do arquiduque Francisco Ferdinando, herdeiro do trono austro-húngaro, e de sua esposa, a arquiduquesa Sofia, em Saraievo, no dia 28 de junho de 1914, desencadeou as hostilidades que começaram em agosto de 1914 e se prolongaram por várias frentes durante os quatro anos seguintes.

Fonte: <https://encyclopedia.ushmm.org/content/pt-br/article/world-war-i>. Acesso em: 24 abr. 2023.

Acerca do conflito citado, marque o que for incorreto.

- (A) O entusiasmo inicial de todos os contendores acreditando que haveria uma vitória rápida e decisiva desapareceu quando a Guerra começou a se arrastar, marcada por grandes perdas humanas e materiais, e pelos terríveis combates nas trincheiras, particularmente na Linha de Frente Ocidental da Guerra.
- (B) O sistema de trincheiras e fortificações na Linha de Frente Ocidental se estendia por 760 quilômetros aproximadamente, do Mar do Norte à fronteira suíça, e definiu a Guerra para a maioria dos combatentes dos EUA e do oeste europeu.
- (C) Apesar da grande extensão da Frente Oriental, a qual impedia combates em larga escala nas trincheiras, o volume do conflito foi igual ao da Frente Ocidental.
- (D) Houve muitas batalhas também no norte da Itália, nos Bálcãs e no Império Otomano.
- (E) Uma mudança decisiva em relação às hostilidades ocorreu em abril de 1917, quando a política de guerra submarina irrestrita do Japão fez com que os EUA abandonassem sua posição de isolacionismo e tomassem parte central no conflito.

37

O Holocausto aconteceu dentro do contexto maior da Segunda Guerra Mundial. Essa guerra foi o maior e mais destrutivo conflito da história da humanidade. Adolf Hitler e o regime nazista buscavam criar um novo e vasto império no leste europeu, através da eliminação das populações lá existentes, criando assim um “espaço vital” (*Lebensraum*) para colocar os alemães.

Fonte: <https://encyclopedia.ushmm.org/content/pt-br/article/world-war-ii-in-europe>. Acesso em: 24 abr. 2023.

A escalada de expansão nazista começou anteriormente ao início da II Guerra Mundial, como se verifica

- (A) no ataque aéreo nazista à base estadunidense de Pearl Harbour.
- (B) na anexação dos Sudetos, região da Tchecoslováquia.
- (C) nas trincheiras que cercaram a região da Alsácia-Lorena no Pré-Segunda Guerra.
- (D) na invasão de Hitler ao território italiano, formando o Eixo.
- (E) na quebra de acordo com Stalin, desobedecendo o pacto de não agressão.

38

Relacione as características aos referidos conflitos.

- 1) O estopim para a entrada norte-americana no conflito foi o Incidente do Golfo de Tonkin, que aconteceu em 1964.
- 2) Ocorrido entre 1950 e 1953, foi o conflito que consolidou a divisão do território em Norte e Sul, ocorrida desde a Conferência de Potsdam em 1945.
- 3) Teve início em 1979, marcado pelas intervenções soviéticas e estadunidenses. Teve como característica final a derrocada soviética na região.

- () Guerra da Coreia
- () Guerra do Vietnã
- () Guerra do Afeganistão

Marque a sequência correta.

- (A) 1, 2 e 3
- (B) 1, 3 e 2.
- (C) 2, 1 e 3.
- (D) 2, 3 e 1.
- (E) 3, 2 e 1.

39

A revolução de 30 foi uma revolta armada organizada pelas oligarquias de _____, _____ e _____ contra o governo vigente. Essa revolta armada ocorreu por insatisfações das três oligarquias citadas com o domínio excessivo dos representantes do estado do Presidente Washington Luís sobre a política. Assinale a alternativa que completa corretamente a lacuna.

- (A) Minas Gerais, Rio Grande do Sul e Paraíba
 (B) São Paulo, Rio de Janeiro e Paraíba
 (C) Minas Gerais, São Paulo e Rio Grande do Sul
 (D) São Paulo, Paraíba e Goiás
 (E) Goiás, Rio Grande do Sul e Paraná

40

Leia o artigo a seguir:

Art. 1º A Nação brasileira adota como forma de Governo, sob o regime representativo, a República Federativa, proclamada a 15 de novembro de 1889, e constitui-se, por união perpétua e indissolúvel das suas antigas Províncias, em Estados Unidos do Brasil.

O referido artigo é parte integrante da Constituição de

- (A) 1891.
 (B) 1934.
 (C) 1937.
 (D) 1946.
 (E) 1967.

Conhecimentos Gerais – Geografia

Júlio Santos

41

A demografia é a parte da geografia responsável por estudar a população e suas interações sociais, econômicas, culturais e políticas. É um campo do saber de enorme importância com a presença de inúmeros conceitos.

A respeito dos conceitos atrelados a esse campo do saber, indique aquele que está em desacordo com seu real significado.

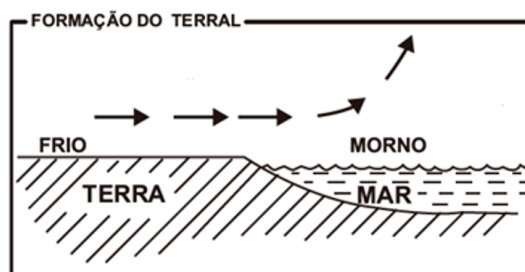
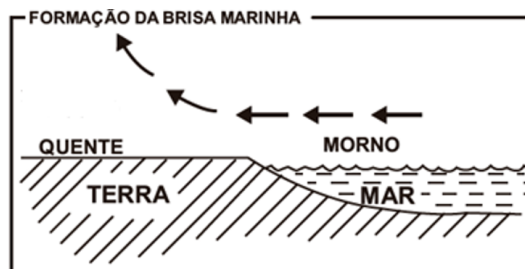
- (A) A população relativa é o número total de habitantes de um local. É também denominada de densidade demográfica.
 (B) Pode-se chamar uma área ou região de populosa quando ela possui uma grande população absoluta. O Brasil é um clássico exemplo de um país populoso.
 (C) As áreas anecumênicas são aquelas de grande concentração populacional. Geralmente são áreas urbanas com enormes agrupamentos industriais.

(D) Saldo migratório é a diferença entre o número de pessoas que entram em uma determinada região, denominados de imigrantes, e o número daqueles que saem, denominados de emigrantes.

(E) Podemos destacar como saldo ou crescimento demográfico a soma entre o crescimento vegetativo ou natural, juntamente como saldo migratório.

42

Observe os esquemas e, em seguida, responda ao que se pede.



Nas imagens constam informações sobre a formação de brisas em áreas litorâneas em nosso país. Esse processo é resultado de

- (A) uniformidade do gradiente de pressão atmosférica.
 (B) diferença entre as pressões.
 (C) quedas acentuadas de médias térmicas.
 (D) mudanças na umidade relativa do ar.
 (E) variações altimétricas acentuadas.

43

Tendo como referência os problemas ambientais que assolam o Brasil, indique a assertiva correta.

- (A) O enfraquecimento dos ventos alísios é responsável pelo fenômeno da La Niña, provocando secas prolongadas no norte e nordeste do país.
 (B) O El Niño é bastante prejudicial à agricultura de grãos do sul do país, em função das secas prolongadas.
 (C) A massa polar atlântica, promotora do fenômeno de friagem no sudeste do país, sofre grande influência do El Niño.
 (D) Secas no norte e nordeste e chuvas no sul e sudeste são as principais consequências do El Niño no Brasil.
 (E) A ilha de calor refere-se ao aprisionamento de uma massa de ar quente por duas frias, sendo bastante recorrente nas grandes cidades de nosso país.

44

O agronegócio, também conhecido por seu nome em inglês, “agribusiness”, cujas cadeias produtivas se baseiam na agricultura e na pecuária, apresenta um grande dinamismo econômico e pode fazer do Brasil um dos maiores produtores agropecuários do mundo.

Com relação às atividades e personagens do meio rural, é verdadeiro afirmar:

- (A) A monocultura da soja caracteriza-se por um cultivo mecanizado e irrigado, destacando-se desde o final do século XIX por ser a primeira lavoura moderna a se desenvolver no território brasileiro voltada ao mercado externo.
- (B) O agronegócio é um conjunto de ações voltadas ao desenvolvimento da agricultura e pecuária, sendo denominada como a base da economia nacional e a responsável pela maior empregabilidade direta no país.
- (C) A expansão do agronegócio no Brasil não tem qualquer relação com as transformações ocorridas no campo, a não ser aquelas relativas ao aumento da empregabilidade e à desconcentração de rendas e terras.
- (D) O boia-fria é um personagem marcante do meio rural, sendo considerado um trabalhador rural sem vínculos empregatícios, tais como salário-mínimo, FGTS, férias remuneradas, jornada semanal de trabalho.
- (E) A jardinagem é a principal agricultura praticada em território nacional e consiste em um intenso uso de mão de obra.

45

“A cana-de-açúcar é outra monocultura que tem se expandido nos Cerrados mato-grossenses, apresentando níveis crescentes de área plantada e produção. O produto é absorvido no próprio Estado pelo setor industrial sucroalcooleiro, que produz açúcar, álcool hidratado e anidro.”

MORENO, Gislaene; HIGA, Tereza Cristina Souza (Orgs.). *Geografia de Mato Grosso: território, sociedade, ambiente*. Cuiabá: Entrelinhas, 2005. p. 154-155.

Com base nos seus conhecimentos acerca do assunto tratado no texto acima, assinale a alternativa correta.

- (A) As indústrias sucroalcooleiras tiveram enorme destaque nos anos 70 devido à primeira crise do petróleo, destacando-se nesse momento o programa Proálcool, que tem seu auge no governo de Emílio Garrastazu Médici.
- (B) O plantio da cana-de-açúcar é feito, geralmente, nos meses de abril e maio, e a colheita, de setembro a dezembro. O estado do Mato Grosso merece destaque, produzindo aproximadamente 60% de toda a cana, açúcar e etanol do país.

(C) A monocultura é uma prática antiga no Brasil desde o período colonial aos dias atuais. No passado havia a saída de matéria-prima e a compra de manufaturas, e atualmente existe a entrada de tecnologia e a venda de commodities.

(D) “Gato” é um personagem da estrutura agrária brasileira e, assim como o “posseiro”, contrata trabalhadores braçais como mão de obra para fazendas ou projetos agropecuários.

(E) O meeiro é o indivíduo responsável pelo pagamento mensal ou anual em espécie pelo uso das terras e equipamentos, após celebrado acordo com o proprietário destes.

Conhecimentos Gerais – Atualidades

Rebecca Guimarães

46

O Conselho de Segurança da ONU (Organização das Nações Unidas) aprovou, nesta 2ª feira (25 mar. 2024), uma resolução que determina o cessar-fogo “imediato” na Faixa de Gaza. Israel pode descumprir a decisão. A proposta foi apresentada pelos atuais 10 integrantes não permanentes do conselho (Argélia, Equador, Guiana, Japão, Malta, Moçambique, Coreia do Sul, Serra Leoa, Eslovênia e Suíça). Recebeu 14 votos a favor, nenhum contrário e uma abstenção dos EUA.

A medida que permitiu que o Conselho de Segurança exigisse um cessar-fogo imediato no mês foi a

- (A) da Páscoa judaica, que comemora a saída do Egito.
- (B) de jejum muçulmano do Ramadã.
- (C) da Páscoa cristã, que se relaciona com a crucificação, morte e ressurreição de Jesus Cristo.
- (D) do Yom Kipur, dia mais sagrado do ano judaico.
- (E) do Ano Novo Islâmico, que ocorre durante o primeiro mês do Hijrī, ou calendário lunar muçulmano.

47

A entrada de novos países ao grupo dos Brics aumenta a visibilidade do bloco perante o mundo e a expressão dos membros em negociações e acordos comerciais. Com essa nova formação, o bloco representa quase 40% do Produto Interno Bruto (PIB) mundial. A partir de 2024, além de Brasil, Rússia, Índia, China e África do Sul, o grupo contará com Arábia Saudita, Argentina, Egito, Emirados Árabes, Etiópia e Irã.

O país em que ocorrerá a reunião dos Brics +, no ano de 2024, é

- (A) o Brasil, no Rio de Janeiro.
- (B) a China, em Xangai.
- (C) a Rússia, em Cazã.
- (D) a Índia, em Nova Délí.
- (E) a África do Sul, em Pretória.

48

O Brasil foi formalmente confirmado como sede da COP 30, a 30ª Conferência das Partes da Convenção-Quadro das Nações Unidas sobre Mudança do Clima, que será realizada em Belém, entre 10 e 21 de novembro de 2025. O anúncio foi oficializado durante sessão plenária da COP 28, em Dubai. Será a primeira vez que a Amazônia sediará uma COP. A notícia foi anunciada pela ministra do meio ambiente, Marina Silva.

Assinale a alternativa que evidencia a relevância da Floresta Amazônica no contexto das mudanças climáticas.

- (A) A Floresta leva umidade para toda a América do Sul, influencia regime de chuvas na região e contribui para estabilizar o clima global.
- (B) A Floresta Amazônica é o pulmão do mundo, e assim contribui com grande produção de oxigênio no planeta Terra.
- (C) Através das relações de ar, vento, vegetais e animais, a floresta consegue produzir uma grande parte dos alimentos que abastecem o mundo, evitando o desmatamento de outras florestas.
- (D) O modo como a floresta se relaciona com o oxigênio e o gás carbônico a define como um ar-condicionado do planeta. Isso porque todo o processo de consumo das árvores e seres vivos ajudam a retirar umidade do planeta.
- (E) A Amazônia é um ponto de biodiversidade inigualável e providencia inúmeros serviços aos humanos, como por exemplo, evitar o fenômeno do El Niño.

49

O leilão para a concessão do Trem Intercidades Eixo Norte (TIC), que prevê ligar os 101 km entre São Paulo (SP) a Campinas (SP) por trem rápido, aconteceu na sede da Bolsa de Valores de São Paulo. A abertura da sessão pública marcou o capítulo mais importante de projeto discutido há mais de uma década.

Além do TIC, o vencedor irá operar um Trem Intermetroropolitano (TIM) para atender passageiros em:

- (A) Ribeirão Preto, Araraquara e São Carlos.
- (B) Sorocaba, Votorantim e São Roque.
- (C) Jundiaí, Louveira, Vinhedo e Valinhos.
- (D) São José dos Campos, Jacareí e Bragança Paulista.
- (E) Ourinhos, Marília, Bauru e Assis.

50

O Brasil assumiu, em 1º de dezembro de 2023, a presidência temporária do G20. O mandato tem duração de um ano e se encerrará em 30 de novembro de 2024. Será a primeira vez que o país ocupa essa posição na história do grupo no formato atual.

Assinale a alternativa que indica a composição atual do G20.

- (A) Os 20 países mais ricos do mundo.

- (B) Os 18 países mais ricos do mundo mais o bloco econômico da União Europeia e o bloco econômico da União Africana.

- (C) Os 20 países mais ricos do mundo mais o bloco econômico da União Europeia.

- (D) Os 19 países mais ricos do mundo mais o bloco econômico da União Europeia e o bloco econômico da União Africana.

- (E) Os 20 países mais ricos do mundo mais o bloco dos BRICS.

Noções de Informática

Leonardo Vasconcelos

51

No Microsoft Excel, um recurso de estilos é denominado “Formatação Condicional”. Esse recurso

- (A) copia a formatação do texto para aplicar a outra parte do texto.
- (B) converte rapidamente um intervalo de células em uma tabela com seu próprio estilo.
- (C) aplica somente um estilo de formatação colorido para destacar as células selecionadas.
- (D) identifica tendência e padrões nos seus dados usando barra, cores e ícones para realçar visualmente os valores.
- (E) aplica um estilo em toda a planilha.

52

O Microsoft Word oferece diversas ferramentas para formatar documentos de forma eficiente. Uma das ferramentas mais úteis é a utilização de estilos, que permitem aplicar conjuntos pré-definidos de formatação a diferentes elementos do texto, como títulos, parágrafos e listas. Com relação aos estilos no Microsoft Word, assinale a alternativa correta.

- (A) Os estilos são conjuntos de opções de formatação que podem ser aplicados a qualquer elemento do texto, como títulos, parágrafos e listas.
- (B) Os estilos são aplicados automaticamente pelo Word ao digitar o texto, não sendo possível personalizar a formatação.
- (C) Os estilos servem apenas para formatar a cor da fonte do texto.
- (D) Os estilos não podem ser editados ou modificados após a sua criação.
- (E) Os estilos são salvos em um arquivo separado do documento e não podem ser reutilizados em outros documentos.

53

No sistema operacional Windows 10, com as configurações padrão, existem duas pastas vazias na área de trabalho, denominadas "PMSP" e "SSP". Ao selecionar a pasta "PMSP" com o botão esquerdo do mouse e arrastá-la para dentro da pasta "SSP",

- (A) será criado um atalho para a pasta "PMSP" dentro da pasta "SSP".
- (B) a pasta "PMSP" será copiada para dentro da pasta "SSP" com o mesmo nome.
- (C) a pasta "PMSP" será movida para dentro da pasta "SSP".
- (D) a pasta "PMSP" será excluída.
- (E) o sistema apresentará um erro e a operação não será realizada.

54

O Google Chrome é um navegador web popular que oferece diversas opções de personalização, incluindo a escolha do mecanismo de pesquisa padrão. O buscador Google é definido por padrão, mas é possível configurá-lo para outros serviços.

Indique os mecanismos de pesquisa que não podem ser configurados como padrão no Google Chrome.

- (A) DuckDuckGo e Bing.
- (B) DuckDuckGo e Yandex.
- (C) Ecosia e Qwant.
- (D) Yahoo Brasil e Bing.
- (E) Yahoo Brasil e Yandex.

55

Assinale a opção que indica o atalho de teclado no Google Docs para que o parágrafo de texto fique justificado.

- (A) Ctrl + Shift + R
- (B) Ctrl + Shift + L
- (C) Ctrl + Shift + J
- (D) Ctrl + Shift + 7
- (E) Ctrl + Shift + 8

Noções de Administração Pública

Ricardo Blanco**56**

Assinale a opção incorreta em relação ao entendimento do STF.

- (A) A nomeação de cônjuge, companheiro, ou parente, em linha reta, colateral ou por afinidade, até o terceiro grau, inclusive, da autoridade nomeante ou de servidor da mesma pessoa jurídica, investido em cargo de direção, chefia ou assessoramento, para o exercício de cargo em comissão ou de confiança, ou, ainda, de função gratificada na administração pública direta e indireta, em qualquer dos Poderes da União, dos Estados, do Distrito Federal e dos Municípios, compreendido o ajuste mediante designações recíprocas, viola a CF.
- (B) A administração pode anular seus próprios atos, quando eivados de vícios que os tornem ilegais, porque deles não se originam direitos, ou revogá-los, por motivo de conveniência ou oportunidade, respeitados os direitos adquiridos e ressalvada, em todos os casos, a apreciação judicial.
- (C) É constitucional o ato normativo que concretiza a aplicação dos princípios da Administração Pública (art. 37, *caput*, da CF/1988) às entidades qualificadas como organizações sociais.
- (D) Os processos administrativos sancionadores instaurados por agências reguladoras contra concessionárias de serviço público não devem obedecer ao princípio da publicidade durante toda a sua tramitação, ressalvados eventuais atos que se enquadrem nas hipóteses de sigilo previstas em lei e na Constituição.
- (E) Os cargos políticos do Poder Legislativo e do Poder Executivo municipal têm caráter temporário e transitório, motivo pelo qual não se justifica a concessão de qualquer benefício a ex-ocupante do cargo de forma permanente, sob pena de afronta aos princípios da igualdade, da impessoalidade, da moralidade pública e da responsabilidade com gastos públicos.

57

Assinale a opção incorreta em relação ao entendimento do STF.

- (A) A alienação do controle acionário de empresas públicas e sociedades de economia mista exige autorização legislativa e licitação pública. A transferência do controle de subsidiárias e controladas não exige a anuência do Poder Legislativo e poderá ser operacionalizada sem processo de licitação pública, desde que garantida a competitividade entre os potenciais interessados e observados os princípios da administração pública constantes do art. 37 da Constituição da República.
- (B) Pelo inc. XIX do art. 37 da Constituição da República, a autorização legislativa para criação de sociedade de economia mista há de ser dada por lei específica, mas, para a criação das subsidiárias, no inc. XX do mesmo art. 37, exige -se apenas autorização legislativa genérica.
- (C) É subjetiva a responsabilidade civil do Estado em relação a profissional da imprensa ferido por agentes policiais durante cobertura jornalística, em manifestações em que haja tumulto ou conflitos entre policiais e manifestantes. Cabe a excludente da responsabilidade da culpa exclusiva da vítima, nas hipóteses em que o profissional de imprensa descumprir ostensiva e clara advertência sobre acesso a áreas delimitadas, em que haja grave risco à sua integridade física.
- (D) Nos termos do artigo 37, § 6º, da Constituição Federal, não se caracteriza a responsabilidade civil objetiva do Estado por danos decorrentes de crime praticado por pessoa foragida do sistema prisional, quando não demonstrado o nexo causal direto entre o momento da fuga e a conduta praticada.
- (E) O Estado responde subsidiariamente por danos materiais causados a candidatos em concurso público organizado por pessoa jurídica de direito privado (art. 37, § 6º, da CRFB/88), quando os exames são cancelados por indícios de fraude.

58

Assinale a opção incorreta em relação à administração pública.

- (A) As funções de confiança, exercidas exclusivamente por servidores ocupantes de cargo efetivo, e os cargos em comissão, a serem preenchidos por servidores de carreira nos casos, condições e percentuais mínimos previstos em lei, destinam-se apenas às atribuições de direção, chefia e assessoramento.
- (B) A lei não reservará percentual dos cargos e empregos públicos para as pessoas portadoras de deficiência e definirá os critérios de sua admissão.
- (C) A lei estabelecerá os casos de contratação por tempo determinado para atender a necessidade temporária de excepcional interesse público.
- (D) Os vencimentos dos cargos do Poder Legislativo e do Poder Judiciário não poderão ser superiores aos pagos pelo Poder Executivo.
- (E) É vedada a vinculação ou equiparação de quaisquer espécies remuneratórias para o efeito de remuneração de pessoal do serviço público.

59

Uma administração pública que tenha criado uma autarquia para auxiliar no desempenho de suas funções

- (A) apresenta organização por colaboração, considerando que não desempenha tarefas diretamente na estrutura da Administração direta.
- (B) atua por meio de desconcentração.
- (C) configura uma descentralização por outorga legal.
- (D) depende de registro em cartório para a produção da personalidade jurídica.
- (E) criou uma autarquia que, como todas as autarquias, é subordinada aos entes federativos.

60

Um município editou uma lei criando uma pessoa jurídica para integrar a administração pública indireta. Dessa informação, conclui-se que o município criou uma

- (A) empresa pública pessoa jurídica de direito privado prestadora de serviços públicos.
- (B) fundação, com finalidade lucrativa.
- (C) sociedade de economia mista, pessoa jurídica de direito público, cuja finalidade deve ser obrigatoriamente à exploração de atividade econômica.
- (D) empresa estatal, sujeita ao regime jurídico de direito público ou privado, conforme o que constar do decreto do ente federado.
- (E) empresa pública, sujeita ao regime jurídico de direito público, à qual não é permitida a prestação de serviço público.



1º Simulado
Polícia Militar do Estado de São Paulo
Soldado PM de 2ª Classe (Pós-Edital)

GABARITO

1	2	3	4	5	6	7	8	9	10
E	E	D	C	A	E	B	B	B	E
11	12	13	14	15	16	17	18	19	20
B	E	A	D	D	C	A	B	D	E
21	22	23	24	25	26	27	28	29	30
A	D	D	D	A	C	B	A	E	C
31	32	33	34	35	36	37	38	39	40
A	D	B	E	E	E	B	C	A	A
41	42	43	44	45	46	47	48	49	50
C	B	D	D	C	B	C	A	C	D
51	52	53	54	55	56	57	58	59	60
D	A	C	C	C	D	C	B	C	A




SER APROVADO É UMA QUESTÃO DE TREINO

E, com **mais de 2,8 milhões de questões**, você vai achar que a prova é mais uma bateria delas.

Selecione questões por órgão, nível, cargo, banca, ano, estado, conteúdo e matéria.

Tenha controle do que já fez, avalie com facilidade seus erros e acertos e estude de forma pragmática para passar no concurso dos seus sonhos.



QUESTÕES COMENTADAS

Se surgir dúvida, não se preocupe. O app conta com 100% das questões comentadas, para que você assimile melhor o conteúdo!



ASSUNTOS FREQUENTES

Saiba o que despensa nas provas. Com essa funcionalidade, você fica por dentro dos assuntos mais cobrados dos concursos, podendo assim dar mais atenção para as matérias mais importantes.



MARCADORES

Nessa categoria, quem manda é você! Crie seus próprios marcadores, organizando suas questões como for mais fácil para você. Separe por erros, difíceis, fáceis, com peguinhas ou conforme sua imaginação mandar!



A MELHOR PARTE

Uma infinidade de vantagens espera por você no Gran Questões, mas a melhor parte é: **GRÁTIS PARA ALUNOS ILIMITADOS**. Garanta agora sua Assinatura Ilimitada e use e abuse do app de questões mais completo do Brasil!

PM SP – 1º SIMULADO – SOLDADO PM DE 2ª CLASSE (PÓS-EDITAL)

Língua Portuguesa

Lucas Lemos

1

Assinale a opção que apresenta a frase cuja forma verbal está correta.

- (A) Estados Unidos **detem** grande poder.
- (B) **Requiseram** o emprego de regras mais rígidas.
- (C) **Advinhamos** os números da loteria.
- (D) O retirante **proviu** do interior do Nordeste.
- (E) **Proveem** a casa do necessário.

Letra e.

Assunto abordado: Classes de palavras. Substantivo, adjetivo, numeral, pronome, verbo, advérbio, preposição e conjunção – emprego e sentido que imprimem às relações que estabelecem.

- (A) Errada. O verbo “deter”, na 3ª pessoa do singular, deve ser acentuado, escrevendo-se: “detém”.
- (B) Errada. O verbo “requerer”, ao ser conjugado na 3ª pessoa do plural do pretérito perfeito, deve ser grafado da seguinte forma: “requereram”.
- (C) Errada. O verbo “adivinhar” deve ser grafado com “i”.
- (D) Errada. O verbo “provir”, na 3ª pessoa do singular do pretérito perfeito, deverá ser conjugado assim como o verbo “vir”: “proveio”.
- (E) Certa. O verbo “prover”, conjugado na 3ª pessoa do plural do presente do indicativo, deverá ser grafado com duas vogais.

2

Assinale a alternativa em que a frase está com a concordância verbal inadequada.

- (A) Há de haver motivos para esta desistência.
- (B) Deve fazer cinco anos que me formei.
- (C) Dez anos está fazendo que estudamos juntos.
- (D) Podem ter passado dois anos que nos vimos.
- (E) Mais de um estudante estiveram no evento.

Letra e.

Assunto abordado: Concordância verbal e nominal.

- (A) Certa. O verbo “haver”, no sentido de “existir”, será impessoal e deverá permanecer na 3ª pessoa do singular.
- (B) Certa. O verbo “fazer”, indicando tempo decorrido, será impessoal e deverá permanecer na 3ª pessoa do singular.
- (C) Certa. Assim como na alternativa anterior, o verbo deve permanecer no singular porque o verbo “haver” é impessoal e exige a 3ª pessoa do singular.

(D) Certa. A locução verbal “podem ter passado” concorda com o sujeito posposto “dois anos”.

(E) Errada. Sempre que tivermos as expressões “cerca de, perto de, mais de, menos de”, o verbo deverá concordar com o numeral que vier a seguir. No caso, o verbo “estar” precisa ficar no singular para concordar com “um estudante”.

3

Observe a seguinte frase:

“Se as pessoas se mantessem calmas, os policiais não teriam intervindo para lhes impedir na manifestação”.

Nessa frase, o(s) erro(s) existente(s) é(são):

- (A) apenas na conjugação do verbo “intervir”.
- (B) apenas na conjugação do verbo “manter”.
- (C) na conjugação do verbo “manter” e na regência de “impedir”.
- (D) na conjugação do verbo “manter” e na colocação do pronome “lhes”.
- (E) na conjugação dos verbos “manter” e “intervir” e na regência do verbo “impedir”.

Letra d.

Assunto abordado: Classes de palavras. Substantivo, adjetivo, numeral, pronome, verbo, advérbio, preposição e conjunção – emprego e sentido que imprimem às relações que estabelecem.

No exemplo, percebemos erros em “mantessem” e em “lhes”. O verbo “manter”, conjugado na 3ª pessoa do plural do pretérito imperfeito do subjuntivo, deverá ser grafado: “mantivessem”. Por fim, o pronome adequado seria “as” e não “lhes”, já que o verbo “impedir” exige complemento objeto direto. É importante saber que o pronome “lhes” será apenas usado para objeto indireto.

4

Os adjetivos, em língua portuguesa, podem indicar estados, características, qualidades e relações. Assinale a alternativa em que o adjetivo destacado indica uma relação.

- (A) Quartel **antigo**.
- (B) Policial **corrupto**.
- (C) Policiais **paulistas**.
- (D) Delegacia **nova**.
- (E) Livro **rasurado**.

Letra c.

Assunto abordado: Classes de palavras. Substantivo, adjetivo, numeral, pronome, verbo, advérbio, preposição e conjunção – emprego e sentido que imprimem às relações que estabelecem.

A seguir, apresentarei uma teoria que ajudará nas próximas duas questões.

Adjetivo de estado: refere-se àquilo que é passageiro, ou seja, que apresenta mudanças.

Adjetivo de qualidade: é uma valoração pessoal, isto é, um atributo subjetivo (uma opinião).

Adjetivo de característica: aquilo que de fato é, trata-se de uma certeza (um fato).

Adjetivo de relação: traz um sentido relacional entre substantivo e adjetivo, ou seja, pode trazer um sentido de relação para o substantivo de profissão, nacionalidade, raça, espécie etc. Não admite intensificadores, como “muito”, “pouco”, além de derivar de outro substantivo. Pensando assim, a letra “c” está correta, pois o adjetivo “paulistas” caracteriza o substantivo “policiais”; no entanto, perceba que não aceita o intensificador. Observe que, nas demais alternativas, podemos inserir o termo “muito” antes do adjetivo.

5

Assinale a frase em que o adjetivo destacado indica estado.

- (A) O homem **velho** viajou em paz.
- (B) As **belas** vozes foram ouvidas por longas distâncias.
- (C) As lutas **sociais** sofrem um assédio agressivo da globalização.
- (D) O policial **competente** agiu favoravelmente à Lei.
- (E) O desejo **sombrio** das pessoas me assusta.

Letra a.

Assunto abordado: Classes de palavras. Substantivo, adjetivo, numeral, pronome, verbo, advérbio, preposição e conjunção – emprego e sentido que imprimem às relações que estabelecem.

A única alternativa que apresenta um adjetivo de estado está na letra “a”, já que o termo “velho” indica uma ideia transitória.

6

Observe o período abaixo:

Na literatura carioca, era registrado o termo samba.

Há um exemplo de voz passiva com o verbo **ser**. Assinale a alternativa que transforma essa frase corretamente para a voz ativa.

- (A) Na literatura carioca, registravam-se o termo samba.
- (B) Na literatura carioca, registrou-se o termo samba.
- (C) Na literatura carioca, registrava-se o termo samba.
- (D) Na literatura carioca, o termo samba era registrado.
- (E) Na literatura carioca, registravam o termo samba.

Letra e.

Assunto abordado: Classes de palavras. Substantivo, adjetivo, numeral, pronome, verbo, advérbio, preposição e conjunção – emprego e sentido que imprimem às relações que estabelecem.

A frase “Na literatura carioca, era registrado o termo samba”, de fato, está na voz passiva. Ao transformar em voz ativa, teremos: “Na literatura carioca, registravam o termo samba”. Veja que devemos manter o tempo pretérito imperfeito do indicativo. Nas demais alternativas, manteve-se a voz passiva.

7

Indique a alternativa em que o vocábulo SE exerce a função de pronome reflexivo.

- (A) Estabelecem-se normas rígidas.
- (B) O acusado denunciou-se durante o inquérito.
- (C) Em fazendas, dorme-se ao ar livre.
- (D) Atribui-se aos parlamentares um comportamento duvidoso.
- (E) O parlamentar se esqueceu do compromisso sociopolítico.

Letra b.

Assunto abordado: Concordância verbal e nominal.

(A) Errada. O termo “se” atua como partícula apassivadora, já que o verbo “estabelecer” é transitivo direto. Ao acrescentar o vocábulo “se” junto ao verbo transitivo direto, habilitamos o objeto direto a se tornar sujeito. Observe ainda que o sujeito “normas rígidas” exige a concordância do verbo no plural.

(B) Certa. O vocábulo “se” exerce a função de pronome reflexivo, visto que podemos identificar uma ideia reflexiva em “denunciou **a si mesmo** durante o inquérito”.

(C) Errada. A palavra “se” exerce a função de índice de indeterminação do sujeito, uma vez que está conectado ao verbo intransitivo “dormir”. O vocábulo “se”, como índice de indeterminação do sujeito, ocorrerá junto a verbos transitivos indiretos, verbos intransitivos e verbos de ligação.

(D) Errada. A forma verbal “atribui” é transitiva direta e exige o complemento objeto direto. Ao adicionar o vocábulo “se” junto a esse verbo, habilitamos o objeto a ser sujeito. Nesse caso, o termo “se” será uma partícula apassivadora.

(E) Errada. O termo “se” exerce função de parte integrante do verbo, já que o verbo “esquecer-se” é considerado pronominal.

8

Observe a frase a seguir:

No Gran, há cursos semipresenciais.

Mantêm-se o sentido e a correção gramatical do texto caso a forma verbal “há” seja substituída por

- (A) tem.
- (B) existem.
- (C) hão.
- (D) têm.
- (E) existe.

Letra b.**Assunto abordado:** Concordância verbal e nominal.

Em “há cursos semipresenciais”, o verbo “há” tem valor impessoal por indicar a ideia de existência. Nessa situação, o sujeito dele é classificado como inexistente e ele será transitivo direto. Ao substituir pelo verbo “existir”, é importante atender a correta concordância com o sujeito “cursos semipresenciais”, escrevendo: **existem cursos semipresenciais**. Com base nisso, marcamos a letra “b” como correta. Lembre-se ainda de que não podemos assinalar as alternativas “a” e “d”, porque o verbo “ter” apenas poderá ser empregado para indicar a ideia de posse.

9

Leia a frase a seguir:

“Sua boca é um cadeado/ E meu corpo é uma fogueira”

(Chico Buarque)

Identifica-se a seguinte figura de linguagem no texto de Chico Buarque:

- (A) eufemismo.
- (B) metáfora.
- (C) metonímia.
- (D) sinestesia.
- (E) catacrese.

Letra b.**Assunto abordado:** Sentido próprio e figurado das palavras.

O autor utiliza a metáfora para se referir à boca que é como um cadeado; e o corpo que é como uma fogueira. Entenda que a metáfora é uma comparação implícita. Lembre-se ainda que o “eufemismo” refere-se à ideia da suavidade; a “metáfora” é um tipo de comparação; a “metonímia” é a substituição do produto pela marca, da obra pelo autor, do todo pela parte; a “sinestesia” é a mistura dos sentidos; por fim, a “catacrese” é uma substantivação popular.

10

Analisar a oração:

“O atual governador de São Paulo, Tarcísio de Freitas, participou do evento.”

Assinale a alternativa que indica a função sintática da expressão “Tarcísio de Freitas”.

- (A) Adjunto adverbial.
- (B) Sujeito.
- (C) Objeto direto.
- (D) Vocativo.
- (E) Aposto.

Letra e.**Assunto abordado:** Pontuação.

Em “O atual governador de São Paulo, Tarcísio de Freitas, participou do evento”, a expressão “Tarcísio de Freitas” exerce a função de aposto do termo “governador”, por trazer uma informação acerca do termo antecedente.

11

Observe o período a seguir:

“Se estudasse com afinco, hoje já estaria aprovado.”

A forma verbal “estaria”

- (A) está conjugada no futuro do presente.
- (B) transporta a uma época passada e descreve o que seria ação futura.
- (C) indica um passado contínuo.
- (D) traduz ações posteriores ao tempo da oração anterior.
- (E) exprime dúvida sobre fatos passados.

Letra b.**Assunto abordado:** Classes de palavras. Substantivo, adjetivo, numeral, pronome, verbo, advérbio, preposição e conjunção – emprego e sentido que imprimem às relações que estabelecem.

O verbo “estaria” está conjugado no futuro do pretérito, que é também conhecido como futuro condicional. Trata-se de uma ideia que é levada ao passado para contar como seria o futuro. Por isso, a letra “b” está correta.

12

Analise o período para responder à questão.

“O parlamentar conseguiu grandes realizações, **conquanto fosse gênio.**”

A oração grifada traz uma ideia de:

- (A) proporção.
- (B) consequência.
- (C) causa.
- (D) modo.
- (E) concessão.

Letra e.

Assunto abordado: Classes de palavras. Substantivo, adjetivo, numeral, pronome, verbo, advérbio, preposição e conjunção – emprego e sentido que imprimem às relações que estabelecem.

A conjunção “conquanto” indica uma ideia concessiva, assim como os seguintes conectores: embora, mesmo que, ainda que, por mais que, se bem que, posto que, malgrado, apesar de que.

13

Assinale a alternativa em que o acento grave foi empregado corretamente.

- (A) A testemunha obedeceu à ordem do juiz.
- (B) O juiz explicou à situação ao acusado.
- (C) O advogado informou à todos os clientes a sua desistência.
- (D) A ideia do promotor estava relacionada à este processo.
- (E) O réu estava disposto à colaborar com o advogado.

Letra a.

Assunto abordado: Crase.

(A) Certa. Ocorre o sinal indicativo de crase devido à fusão de preposição “a” exigida pela forma verbal “obedecer” com o artigo “a” que antecede o substantivo “ordem”.

- (B) Errada. Não há crase em objeto direto.
- (C) Errada. Não há crase diante de pronome indefinido.
- (D) Errada. Não há crase antes de pronome demonstrativo não iniciado por “a”.
- (E) Errada. Não há crase diante de verbos.

ASSINATURA ILIMITADA 9.0

Mude de vida. Garanta seu futuro com a melhor plataforma de estudos para concurso público.

A realização do seu sonho merece um investimento de qualidade. Não desperdice tempo, dinheiro e energia. Invista no seu sucesso, no seu futuro e na sua realização profissional. Assine **AGORA** a melhor e mais completa plataforma de ensino para concursos públicos. Sua nomeação na palma da sua mão com a **Assinatura Ilimitada 9.0** do Gran Cursos Online.



FACILITE SEUS ESTUDOS:

rotas de aprovação, mapas mentais, resumos e exercícios irão te guiar por um caminho mais simples e rápido.



TUDO NO SEU TEMPO E ESPAÇO:

faça o download de videoaulas e de PDFs e estude onde e quando você quiser e puder.



VOCÊ NÃO ESTÁ SOZINHO:

mentorias diárias, ao vivo, e fórum de dúvidas não te deixarão só nesta caminhada.



TUDO DE NOVO QUANTAS VEZES VOCÊ QUISER:

quantas vezes você quiser, quantas vezes você precisar, estude com o material mais atualizado e de melhor qualidade do mercado.



NÚMEROS GRANDES:

milhares de alunos aprovados, mais de 2,8 milhões de questões, mais de 35 mil cursos e centenas de professores para te ajudar a passar.



TUDO NA SUA MÃO:

só a Assinatura Ilimitada oferece, de forma livre e gratuita: Gran Questões, Gerenciador de Estudos, Audiobooks e muito mais!

Contato para vendas:

(61) 99884-6348 | De segunda a quinta até as 22h e sexta até as 21h.



Quero ser assinante ilimitado agora